



Höhen im Dreieck


- ▶ Welche Größe hat der Winkel zwischen der Geraden CE und der Dreiecksseite \overline{AB} ?



- ▶ Welche Eigenschaft hat die Gerade CE im Dreieck ABC ?



- ▶ Welche Eigenschaft hat der Punkt D im Dreieck ABC ? Welchen Namen hat daher der Punkt D ?



- ▶ Wo liegt der Punkt D , wenn das Dreieck ABC

- ▶ spitzwinklig,
- ▶ stumpfwinklig,
- ▶ rechtwinklig ist?

